

# H7 Vlakke meetkunde



Zoek uit  
wat wij  
te zeggen  
hebben



## Eigenschappen van

Rechte hoek

Gestreckte  
hoek

Driehoek

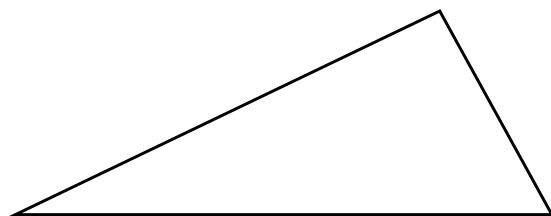
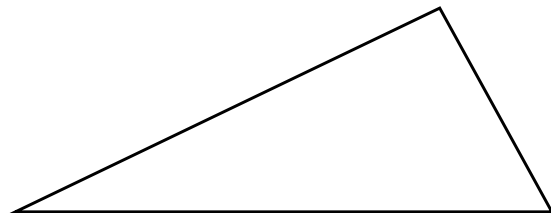
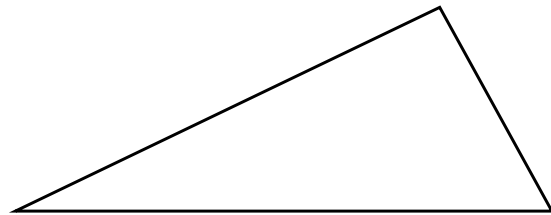
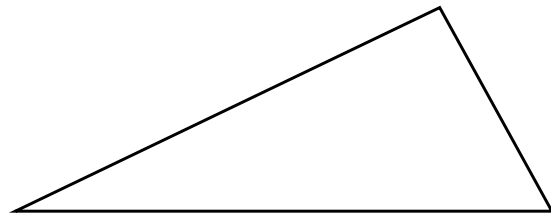
Overstaande  
hoeken

Gelijkbenige  
driehoek

Bissectrice

## Lijnen in een driehoek

Wat is wat? Teken en zet de naam erbij.





Wat is wat? En welke tekens ontbreken?

**Driehoeken**

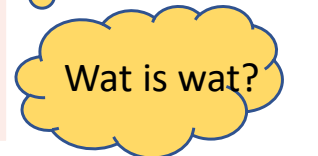



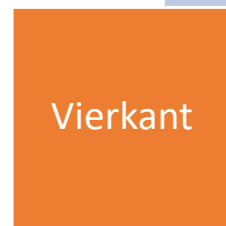


Netjes schrijven is geen kunst.  
Zet hier de vier teken die op elkaar lijken naast  
elkaar. Maak ze duidelijk & verschillend!

Haakje openen	Letter L	Kleiner dan teken	Hoek teken



**F & Z**



### Regels bij berekeningen

- 
- 
- 
- 
- 
- 
- 
- 

#### Oefenen



- Opgaven gemaakt
- Nagekeken
- Foute opgaven helemaal nog een keer gemaakt
- Gemengde opgaven gemaakt

#### Leren



- Woordenlijst gemaakt
- Betekenis opgezocht
- Betekenis kunnen vertellen
- Geoefend met tekenen

#### Spulletjes



- Lijst met spulletjes opgezocht
- Alles verzameld
- Alles doet het

#### Vorbereiding



- Oefenen
- Leren
- Spulletjes klaarleggen
- Op tijd gaan slapen

Schrijf steeds ook de paginanummers op. Waarmee moet je dit schema aanvullen om het compleet te maken? Wat ontbreekt er?